

Viktige ord

Oppgave 1. Se på bildet. Er dette riktig? Sett X.



smal



bred

	Ja	Nei
Veien er bred.		
Stien er smal.		
Stien er bred.		

Oppgave 2. Se på bildet. Er dette riktig? Sett X.



lav




høy


	Ja	Nei
Huset er høyt.		
Bolig-blokka er lav.		
Huset er lavt.		

Oppgave 3. Se på bildet. Er dette riktig? Sett X.**kort****lang**

	Ja	Nei
Jakken er lang.		
Jakken er kort.		
Kåpen er lang.		

Oppgave 4. Se på bildet. Er dette riktig? Sett X.**tung****lett**

	Ja	Nei
Bjørnen er lett.		
Bjørnen er tung.		
Fjæren er lett.		

Oppgave 5. Se på bildet. Er dette riktig? Sett X.**tynn****tykk**

	Ja	Nei
Damen er tykk.		
Mannen er tykk.		
Damen er tynn.		

Oppgave 6. Se på bildet og svar på spørsmålene.

a) Er dette riktig? Sett X.

**få****mange**

	Ja	Nei
Det er mange blomster.		
Det er få epler.		
Det er mange epler.		

b) Hvor mange blomster er det? _____

c) Hvor mange epler er det? _____

Oppgave 7. Se på bildet og svar på spørsmålene.

a) Er dette riktig? Sett X.



mange	flere	flest	Ja	Nei
Det er flere gule epler enn røde epler.				
Det er flest røde epler.				
Det er flere gule epler enn grønne epler.				
Det er flest grønne epler.				

b) Hvor mange røde epler er det? _____

c) Hvor mange epler er det til sammen? _____

d) Hvor mange flere røde epler enn gule epler er det? _____

e) Hvor mange flere røde epler enn grønne epler er det? _____

f) Sett inn riktig ord: **flere, flest**

Det er _____ røde epler.

Det er _____ gule epler enn grønne epler.



Sølv-ringen er billig. Gull-ringen er dyr.

Oppgave 8. Se på bildet og sett inn riktig ord: billigst, billigere.



a) Ringen med 1 sten er _____ enn ringen med 3 stener.


b) Ringen uten sten er _____ .

Oppgave 9. Se på bildet og sett inn riktig ord: dyrest, dyrere.



a) Ringen med 3 stener er _____ enn ringen med 1 sten.

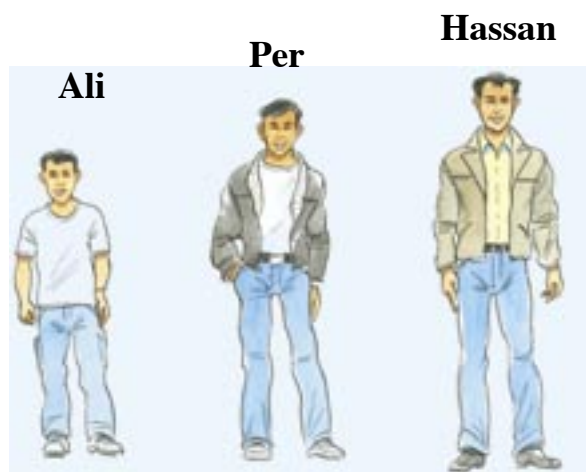
b) Ringen med 7 stener er _____ .

Oppgave 10. Se på bildet. Er dette riktig? Sett X.**liten****mindre****minst****Ja****Nei**

Anna er minst.

Hong er mindre enn Farah.

Anna er mindre enn Hong.

Oppgave 11. Se på bildet. Er dette riktig? Sett X.**stor****større****størst****Ja****Nei**

Ali er større enn Per.

Hassan er større enn Ali.

Per er størst.

Oppgave 12. Se på bildet. Er dette riktig? Sett X.**lite****mindre****minst**


	Ja	Nei
Det er mindre gul saft enn rød saft.		
Det er minst rød saft.		
Det er mindre gul saft enn grønn saft.		
Det er minst grønn saft.		
Det er mindre grønn saft enn rød saft.		

Oppgave 13. Se på bildet. Er dette riktig? Sett X.**mye****mer****mest**

	Ja	Nei
Det er mer oransje saft enn lilla saft.		
Det er mest lilla saft.		
Det er mer oransje saft enn blå saft.		
Det er mest blå saft.		
Det er mer blå saft enn lilla saft.		

Oppgave 14. Se på bildet og svar på spørsmålene.

a) Er dette riktig? Sett X.



	Ja	Nei
Det er mer oransje saft enn gul saft.		
Det er mindre blå saft enn gul saft.		
Det er mest blå saft.		
Det er minst grønn saft.		
Det er mindre rød saft enn blå saft.		
Det er mer gul saft enn lilla saft.		
Det er mindre blå saft enn lilla saft.		
Det er nest mest oransje saft.		
Det er nest minst grønn saft.		

b) Sett inn riktig ord: **minst, mest** Det er _____ lilla saft.

Det er _____ grønn saft.

c) Sett inn riktig ord: **mindre, mer** Det er _____ lilla saft enn rød saft.

Det er _____ gul saft enn blå saft.