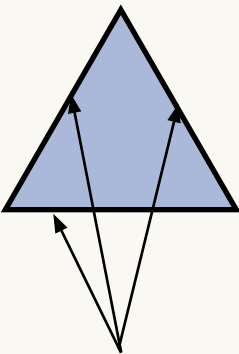


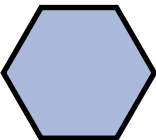



Forskjellige former

tre-kant	fir-kant	sirkel
		
<p>En tre-kant har alltid 3 kanter.</p>	<p>En fir-kant har alltid 4 kanter.</p>	<p>En sirkel er rund.</p>

Oppgave 1. Se på figurene og svar på spørsmålene.

- a)  Hvor mange kanter har denne figuren? _____
 Hva tror du figuren heter på norsk? _____

- b)  Hvor mange kanter har denne figuren? _____
 Hva heter denne figuren? _____



- c) Hvilke figurer er det på bildet? _____

Oppgave 2. Se deg rundt i rommet. Svar på spørsmålene.

- a) Hvilken form har tavla? _____
- b) Hvilken form har bordene? _____
- c) Hvilken form har klokka? _____

Oppgave 3. Hvilken form har disse tingene?

- a) En 50-lapp? _____
- b) Et krone-stykke? _____
- c) Et VISA-kort? _____

Oppgave 4. Tegn.

- a) en tre-kant
- b) en sirkel
- c) en seks-kant
- d) en fir-kant

Oppgave 5. Trafikk-skilt har forskjellig form. Det fins mange forskjellige trafikk-skilt. Her ser du noen av dem.

Hvilken form har skiltene?
Skriv svaret ved siden av hvert skilt.

a)



Glatt **kjøre-bane**

Dette er et fare-skilt.

Det har form som en _____.

b)



Stans forbudt

Dette er et forbuds-skilt.

Det har form som en _____.

c)



Gang-felt

Dette er et opplysnings-skilt.

Det har form som en _____.

d)



Stopp

Dette er et **vike-plikt**-skilt.

Det har form som en _____.

e)



Forkjørs-vei

Dette er et forkjørs-skilt.

Det har form som en _____.

Ord-forklaringer

kjøre-bane

gate eller vei

stans forbudt

det er ikke lov å stoppe

gang-felt

sted hvor vi kan gå over en gate eller vei, med hvite striper

vike-plikt

vi må la annen trafikk kjøre først

forkjørs-vei

annen trafikk må la oss kjøre først