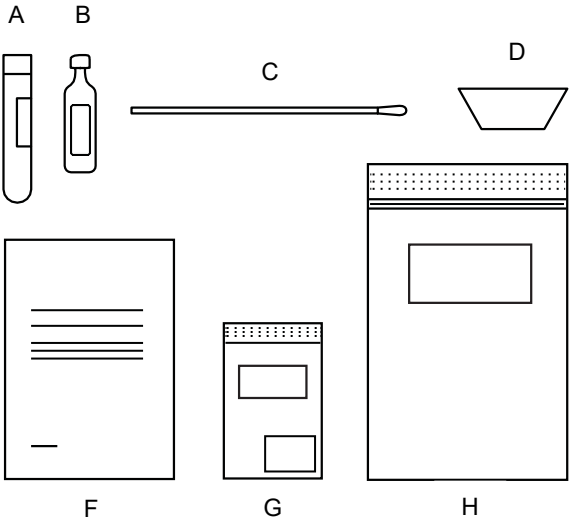


**እቲ ናይ መመርመሪ ክረጺት ትሕዝቶ ናይዚ ዝስዕብ ኣለዎ፡**

- A ባርኲድ ዘለዎ ብልቃጥ መትሓዝ ቅምሶ፡ እቲ ኣብ ባርኲድ ዘሎ ውልቃዊ ቀጻሪ መንነት (ፐሮፕገኑመር) ቅኑዕ እንተ ኹይኑ ክልተ ሳዕ ኣረጋግጽ።
- B ጨዋም ሕቃቕ ዝሓዘ መትሓዘ።
- C መሓሰስያ መውሳድ ቅምሶ።
- D ጡፍ መበሊ ኩባያ።
- E መጻዩ (ኣብ እዋን መመርመሪ ዘይንጥቀመሉ፡ ድሕሪ መመርመሪ ኣብ ሓንቲ ንእሽተይ ክረጺት (G) ክቕመጥ ኣለዎ)።
- F መምርሒታት መውሳድ መመርመሪ (እዛ ወረቓት እዚኣ)።
- G ንእሽቶ ክረጺት፡ ትሕዝቶ ናይ ኣብ እዋን መመርመሪ ዘይንጥቀመሉ፡ ድሕሪ መመርመሪ ኣብ ሓንቲ ንእሽተይ ክረጺት (G) ጥራይ ክቕመጥ ዘለዎ መጻዩ ዘለዎ።
- H ዓብዩ ክረጺት (መደርበዩ ዝተጠቀምናሉ መሓሰስያ መውሳድ ቅምሶን ወዘተን)።

**ባዕልኻ ካብ ኣፍንጫኻን ጎረሮኻን ምራቕኻን ከመይ ጌርካ መመርመሪ ከም ትወስድ መምርሒ**



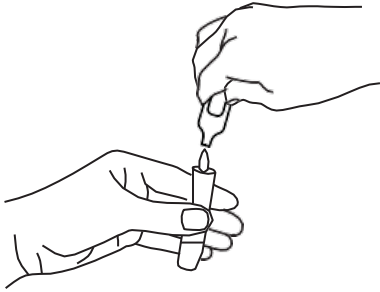
እዚ መምርሒ እዚ ባዕልካ ካብ ነብስኻ መመርመሪ ንክትወስድ ዝተሓሰበ እዩ፤ ይኹን'ምበር እንተ ኣድልዩ ንስኻ ከም ወላዲ መጠን ካብ ውላድካ እውን መመርመሪ ክትወስድ ትኽእል ኢኻ።



**ምድላው ቅድሚ መመርመሪ ምውሳድ**

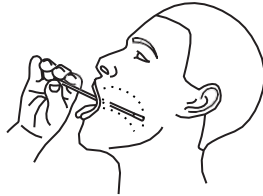
ሓደ ቁልዓ መመርመሪ ከገብሮ እንተ ቺይኑ፡ ንስኻ ከም ወላዲ መጠን ምስ ውላድካ ኪንካ ነቲ መምርሒ ከትከተሎ ንምዕደካ፡ ኣድላዩ እንተ ኹይኑ ከም ወላዲ መጠን ካብ ውላድካ መመርመሪ ከትወስድ ትኽእል ኢኻ።

1. ነታ ንእሽተይ ከረጸት (G) ኣውጺእካ ኣብ ጥቓኻ ኣቐምጣ። ነቲ ዝተረፈ ትሕዝቶ ናይታ ዓብይ ከረጸት (H) ኣብታ ንእሽቶ ሳንግ (G) ኣእትዎ። ነቲ መሓሰስያ መውሰዲ ቅምሶ ዝሓዘ ባኮ (C) ክፈቶ።
2. ነቲ ጨዋም ሕቓቕ ዝሓዘ መትሓዚ (B) ኣልዓልካ ጫፉ ብምጥቁይ ክፈቶ።
3. ነቲ መኸደኒ ካብቲ ብልቃጥ መትሓዝ ቅምሶ (A) ኣልግሶ፡ ናይቲ መኸደኒ ስኒ ንላዕሊ ጌርካ ኣቐምጦ።
4. ነቲ ጨዋም ሕቓቕ (B) ኣብቲ ብልቃጥ መትሓዝ ቅምሶ (A) ገልብጦ። ነቲ ብልቃጥ መትሓዝ ቅምሶ (A) ምሓዝ ቀጽሎ። ነቲ ጥርሑ መትሓዚ ጨዋም ሕቓቕ ኣብቲ ዓቢ ከረጸት (H) ደርብዎ።
5. ሕጂ ብመሰረት እዚ ኣብ ታሕቲ ዘሎ መምርሒታት፡ ሰለስተ መመርመሪታት ከትወስድ ኢኻ።



**ጎረሮ - ምውሳድ መመርመሪ 1**

1. ነቲ መሓሰስያ መውሰዲ ቅምሶ (C) ኣልዓልካ፡ ብውሽጢ ምዕጎርትኻ፡ ብዝተኻእለካ መጠን ናብ ውሽጢ ጎረሮኻ ወገን ኣእትዎ።
2. ብኸልቲኡ ሸንኽ ብዝተኻእለ መጠን ኣብ ውሽጢ ጎረሮኻ ን20 ካልኢት ዝኸውን ቦቲ ጫፍ ናይ ጡጥ ጌርካ ኣግስት።
3. ነቲ መሓሰስያ መውሰዲ ቅምሶ (C) ካብ ጎረሮኻ ኣውጽኣዮ።



20 ካልኢት

**ኣፍንጫ - ምውሳድ መመርመሪ 2**

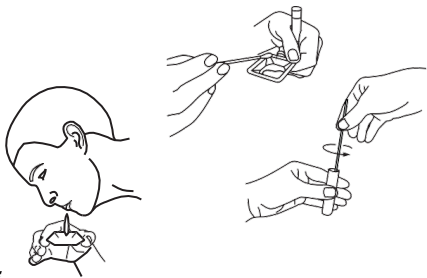
4. ሕጂ ነቲ ጫፍ ጡጥ ንውሽጢ ኣፍንጫኻ ኣእትዎ 2-3 ሰንቲ ሜተር። ን20 ካልኢት ዚኸውን ኣግስት። ቢታ መሓሰስያ መውሰዲ ቅምሶ ኣብ ክልቲኡ ጽርንቕቲ (ኣፍንጫ) ተመሳሳሊ ነገር ግበር።
5. ነቲ መሓሰስያ መውሰዲ ቅምሶ (C) ካብ ኣፍንጫኻ ኣውጺእካ ኣብታ ብልቃጥ መትሓዝ ቅምሶ (A) ሒዝካላ ዘለኻ ኢድካ ምስኡ ሓዘ።



20 ካልኢት

**ምራቕ - ምውሳድ መመርመሪ 3**

1. ነቲ ጡፍ መበሊ ኩባያ (D) ኣውጺእካ፡ እቲ ታሕተዋይ ክፋል ክሳብ ጽቡቕ ጌይሩ ዝሸፈን ብተደጋጋሚ ኣብኡ ጡፍ በል።
2. ነቲ መሓሰስያ መውሰዲ ቅምሶ (C) ወሲድካ፡ ብእኡ ጌርካ ን20 ካልኢት ነቲ ምራቕ ኣዋውሶ።
3. ነቲ ኣብ ጫፉ ጡጥ ዘለዎ መሓሰስያ መውሰዲ ቅምሶ (C) ኣብ ብልቃጥ መትሓዝ ቅምሶ (A) ኣእትኻ ን20 ካልኢት ነቲ ምራቕ ኣዋውሶ። ነቲ መሓሰስያ መውሰዲ ቅምሶ (C) ካብቲ ብልቃጥ መትሓዝ ቅምሶ ኣውጽኣዮ።
4. ነቲ መሓሰስያ መውሰዲ ቅምሶ (C) ከምኡ ውን ነቲ ጡፍ መበሊ ኩባያ (D)፡ ኣብቲ ዓቢ ከረጸት (H) ደርብዎ።
5. ነቲ ናይ ብልቃጥ መትሓዝ ቅምሶ (A) መኸደኒ ጽቡቕ ጌርካ ዕጸዎ። እቲ ፈሳሲ ኣብቲ ብልቃጥ መትሓዝ ቅምሶ (A) ተረፉ ከም ዘሎን እቲ መኸደኒ ጽቡቕ ጌይሩ ከም ዝተዓጸወን ደጊምካ ኣረጋግጽ። ነቲ ናይ ብልቃጥ መትሓዝ ቅምሶ (A) ኣብታ ንእሽተይ ከረጸት (G) ኣእትዎ።



20 ካልኢት

**ድሕሪ መመርመሪ ምውሳድ**

እታ ንእሽተይ ከረጸት (G)፡ ቦቲ ቁጽጺ ከትሕዝ ከለኻ ዝተዋህበካ ሓበሬታ መሰረት፡ ዝተዋህበካ ኣገባብን ቦታን ኣረከቦ።  
 ነታ ዓባይ ከረጸት (H) ምስ መሓሰስያ መውሰዲ ቅምሶን ጡፍ መበሊ ኩባያን ከምኡ ውን ዝተረፈ ጎረሮኻን ኣብ ናይ ዝ መጎሓፊ ጎረሮኻ።

